



T.C.  
MİLLÎ EĞİTİM BAKANLIĞI  
ÖLÇME, DEĞERLENDİRME VE SINAV HİZMETLERİ GENEL MÜDÜRLÜĞÜ

**SINAVLA ÖĞRENCİ ALACAK ORTAÖĞRETİM  
KURUMLARINA İLİŞKİN MERKEZİ SINAV**

**SÖZEL BÖLÜM  
2021**



Adı ve Soyadı : .....  
Sınıfı / Şubesi : .....  
Öğrenci Numarası : .....

DERS ADI	SORU SAYISI	TOPLAM SORU SAYISI	SINAV SÜRESİ (DAKİKA)
TÜRKÇE	20	50	75
T.C. İNKILAP TARİHİ VE ATATÜRKÇÜLÜK	10		
DİN KÜLTÜRÜ VE AHLAK BİLGİSİ	10		
YABANCI DİL (İNGİLİZCE)	10		

**06 HAZİRAN 2021**

**Saat : 09.30**

**ÖĞRENCİLERİN DİKKATİNE!**

1. Sınıf öğrenci yoklama listesinde belirtilen sınıfta ve sıra numarasında oturunuz.
2. Cevap kâğıdındaki kimlik bilgilerinin doğruluğunu kontrol ediniz. Bilgiler size ait değilse veya cevap kâğıdı kullanılmayacak durumdaysa sınav görevlilerine bildirin.
3. Kitapçık türünü cevap kâğıdındaki ilgili alana kodlayınız.
4. Cevap kâğıdı üzerindeki kodlamaları kurşun kalemle yapınız.

**SINAV BAŞLAMADAN ÖNCE  
KİTAPÇIĞIN ARKA KAPAĞINDAKİ  
UYARILARI MUTLAKA OKUYUNUZ.**





1. Bu testte 20 soru vardır.
2. Cevaplarınızı, cevap kâğıdına işaretleyiniz.

1. “Vurmak” sözcüğü aşağıdakilerin hangisinde “olumsuz yönde etkilemek” anlamında kullanılmıştır?

- A) Ayağını kanepenin kenarına sertçe vurdu ve başparmağını incitti.
- B) O akşam sokağın bütün gürültüsü odama vuruyordu.
- C) Yeni yolun açılması, eski yol üzerindeki benzinlikleri vurdu.
- D) Yılların yorgunluğu yaşlı adamın yüzüne vurmuştu.

2. Tipik bir Selçuklu şehri olan Sivas’ı gezerken günlük yaşamla tarihin iç içe olduğunu görebilirsiniz.

Altı çizili söz öbeğinin bu cümleye kattığı anlam aşağıdakilerden hangisi olamaz?

- A) Birbirine karışmak
- B) Bir bütün olmak
- C) Aynı noktada buluşmak
- D) Karmaşık hâle gelmek

3. I. Kendini paralamadan da hedeflerine ulaşabileceğini düşünüyorum.  
II. Daha bu aşamada kendini harap edersen sonrasında ne yapacaksın?  
III. İşler istediği gibi gitmediği için kendini yiyip bitiriyor.  
IV. Bu şarkıyı ne zaman dinlesem kendimi kaybediyorum.

Numaralanmış cümlelerdeki deyimlerin hangilerinde “üzüntü” anlamı vardır?

- A) I ve II
- B) I ve IV
- C) II ve III
- D) III ve IV

4. Sürekli göç veren ilçemizin sessizleşmesinin en önemli sebebi elbette ekonomik sıkıntılar. - - - - ilçemiz, ziyaretçilerin beğenisine sunulacak eşsiz doğal değerlere sahip. Kısa zamanda turizm yoluyla bir kalkınma sağlamak mümkün.

Boş bırakılan yere aşağıdakilerden hangisi getirilirse metnin anlam bütünlüğü bozulur?

- A) Çünkü
- B) Halbuki
- C) Ancak
- D) Oysa

5. “Çok sevdiğim şehirlerden biri olan Erzurum’u bir kez daha gezecek olmaktan mutluluk duyuyorum.” **diyen biriyle ilgili,**

- I. Erzurum’dan başka şehirleri de gezmiştir.
- II. Erzurum’u ikinci kez gezecektir.
- III. Sevdiği başka şehirler de vardır.

**yargılarından hangilerine kesinlikle ulaşılır?**

- A) Yalnız I
- B) Yalnız III
- C) I ve II
- D) II ve III

6. I. Bilgisizliğini ortaya koymaktansa saklamak iyidir.  
II. Çok bilen, bilgisini herkese göstermez.  
III. İnsan ne kadar az bilirse o kadar çok bildiğini sanır.  
IV. İnsanın bilmediği bir şey için bilmiyorum demesi de bir ilimdir.

**Numaralanmış özdeyişlerden hangileri anlamca birbirleriyle çelişmektedir?**

- A) I ve II
- B) I ve IV
- C) II ve III
- D) III ve IV

7. **Suat:** Bence hayata bakış açını değiştirmelisin.

**Selvi:** Ama ben böyleyim, değişemiyorum. Keşke değişebilsem. Pastanın biteceğinden korkarak tadını alamıyorum.

**Bu konuşmaya göre Selvi'nin içinde bulunduğu durumu aşağıdakilerden hangisi en iyi tanımlamaktadır?**

- A) İyi başlayan bir şeyin iyi sonuçlanmayacağını düşünmektedir.
- B) Mutlu olduğu zamanlarda üzücü anılarını hatırlamaktadır.
- C) Bir işin sonunda hayal kırıklığına uğramaktan çekinmektedir.
- D) Olumsuz düşünceleri güzellikleri yaşamasına engel olmaktadır.

8. Balzac, yazmakta olduğu romanda geçen kahramanın ağır bir hastalığa yakalanmasına çok üzülüyormuş. Bunu öğrenen bir dostu: “Kurgu senin değil mi, iyileştiriver!” deyince Balzac: “Ben romanın kaderini değiştiremem!” diye cevap vermiş.

**Bu metindeki altı çizili sözle anlatılmak istenen aşağıdakilerden hangisidir?**

- A) Roman yazarı, tasarladığı ana kurgunun dışına her istediğinde çıkamaz.
- B) Romandaki olaylar, gerçek hayattan alınmışsa gerçeklerden uzaklaşamaz.
- C) Roman kahramanlarının kişiliği, gerçek hayata uygun şekillendirilir.
- D) Yazar, romanını kurgularken çevresindeki kişilerden etkilenmez.

9. • Tesla'nın bulduğu dalgalı akım, Edison'un önceden keşfettiği doğru akımdan çok daha üstündü.  
• Doğru akım uzun mesafelere aktarıldığında telleri eritiyordu.

**Bu iki cümlelin anlamca doğru bir biçimde birleştirilmiş hâli aşağıdakilerden hangisidir?**

- A) Tesla'nın bulduğu dalgalı akım, Edison'un önceden keşfettiği, uzun mesafelere aktarıldığında telleri eriten doğru akımdan çok daha üstündü.  
B) Tesla'nın bulduğu dalgalı akımdan önce Edison'un keşfettiği doğru akım uzun mesafelere aktarıldığında telleri eritiyordu.  
C) Tesla'nın bulduğu dalgalı akım uzun mesafelere aktarıldığında telleri erittiğinden, Edison'un önceden keşfettiği doğru akım ondan çok daha üstündü.  
D) Tesla'nın bulduğu, uzun mesafelere aktarıldığında telleri eriten dalgalı akım, Edison'un önceden keşfettiği doğru akımdan çok daha üstündü.

10. Bir çiftçinin baltası kaybolmuş. Çiftçi, komşusunun oğlundan şüphelenmiş çünkü çocuk bir hırsız gibi yürüyor, davranıyor ve bir hırsız gibi konuşuyormuş. Çiftçi ertesi gün baltasını aletlerin arasında bulmuş. Daha sonra komşusunun oğlunu arkadaşlarıyla oynarken görmüş. Çocuk bütün arkadaşları gibi yürüyor, davranıyor ve onlar gibi konuşuyormuş.

**Bu metinde asıl anlatılmak istenen aşağıdakilerden hangisidir?**

- A) Ön yargıyla hareket etmek haksızlığa sebep olur.  
B) Mutsuzluğun kaynağı, insanlardan boş yere şüphe edilmesidir.  
C) Gerçekler gizlenemez, eninde sonunda ortaya çıkar.  
D) İnsan nasıl düşünüyorsa hayatı ve insanları öyle algılar.

11. Arşimet "Acaba bu kap, suyun üzerinde nasıl duruyor?" diye düşünmeseydi ve suyun kaldırma kuvveti yasasını bulmasaydı bugün koca koca gemiler suyun üzerinde yüzdürülemezdi. Veya insanoğlu kuşların nasıl uçtuğu sorusu üzerine kafa yormasaydı dev gövdeli uçaklara biniyor olamazdık. Her buluşun arkasında kafasına bu tür soruları takip bunlara cevap arayan insanlar vardır.

**Bu metinde vurgulanan düşünce aşağıdakilerden hangisidir?**

- A) Tabiat olayları bilimsel gelişmelere ilham vermiştir.  
B) Buluşlar, ancak uzun süren bilimsel araştırmalar sonucunda ortaya çıkar.  
C) Buluşları doğuran, insanın merak duygusudur.  
D) Uygarlığı bilim insanları geliştirmiştir.

12. Bir kitabım, okuyanı düşünmeye sevk etmezse, çabucak anlaşılırsa yazdıklarım kusurlu demektir. Okuyucular üslubumu basitleştirmemi isteseler de ben okuyucunun eserim üzerine kafa yormasını, gerekirse onu tekrar tekrar okumasını isterim. Eserlerimdeki yoğunluğun, anlam çeşitliliğinin nedeni budur. Bu yüzden eserlerimin çok satılmamasını hiç önemsemiyorum.

**Düşüncelerini bu şekilde dile getiren yazarla ilgili aşağıdakilerden hangisi söylenemez?**

- A) Okurların ilgisini çekmeyen konulara değinir.  
B) Anlaşılması için üzerinde çok düşünülmesi gereken eserler kaleme alır.  
C) Maddi kaygı gözetmeden kitap yazar.  
D) Okuyucunun beklentilerini önemsemez.

13. Mevsim kış, ortalık soğuk. İstiyoruz ki bir helva sohbeti yapalım. Kış günlerine uygun düşer. Bildiğiniz helva, tahin helvası... Kışın yenir. Yazın yiyene de yasak yok. Olsa da yesek diyenler vardır. Lezzeti güzeldir. Eskiden sohbeti de güzelmiş. Amaç sohbet, helva bahane. "Tatlı yiyelim, tatlı söyleyelim." deyip helva sohbetine bir giriş yapalım. Sabırla koruk, helva olurmuş. Ama helva helva demekle ağız tatlanmazmış. Sohbet için sohbet ehli dostlar gerektiğini biliyoruz. Bu yüzden de helva eşliğinde tatlı sohbetler yapacak dostlar arıyoruz.

**Bu metnin dil ve anlatımıyla ilgili aşağıdakilerden hangisi söylenemez?**

- A) Kısa cümleler kullanılmıştır.  
B) Olaya dayalı bir anlatım yapılmıştır.  
C) Özlü sözlerden yararlanılmıştır.  
D) Kişisel görüşlere yer verilmiştir.

14. (I) Saatlerde akrep ve yelkovan başladığı noktaya döner daima. (II) Bu iki "Başlangıç" arasında zaman akıp giderken sahneye farklı hayat hikâyeleriyle insanlar girip çıkıyor. (III) Çünkü eserin ilk bölümü olan "Başlangıç", sona geldiğimizde karşımıza tekrar "Başlangıç" adıyla çıkıyor. (IV) Ayşegül Genç, "Kuğu Boynu" adlı romanında saatteki bu mekanik düzeni model almış bence. (V) Sevinçler, üzüntüler, yalnızlıklar, mutluluklar kısacası hayatlarla yoğrulmuş hikâyeler bunlar.

**Bu metindeki düşünce akışını sağlamak için numaralanmış cümlelerden hangileri yer değiştirmelidir?**

- A) II ve III  
B) II ve IV  
C) III ve V  
D) IV ve V

15. Ticaret denince akla ilk gelen unsurlardan biri tabi ki sipariş edilen malın teslimidir. Tekerleğin ve kağının icadı, atın evcilleştirilmesi, çok daha sonra buhar makinesinin icat edilmesi... Gemi, tren, kamyon derken mesafeler kısaltmaya, yük taşıma kapasitesi de artmaya başladı. Uçaklarla da malın teslim süresi en aza indi. Böylece pazarlama imkânları, yaşanan şehrin ve ülkenin sınırlarını aşmış oldu.

**Bu metnin konusu aşağıdakilerden hangisidir?**

- A) Ulaşım araçlarının gelişimi  
B) Alışveriş alışkanlıklarının değişimi  
C) İcatların günlük hayatı kolaylaştırması  
D) Nakliye araçlarının ticarete etkisi

16. Ben eski sokakları arzuluyorum, çocukluğumun geçtiği sokakları... O sokaklar yok artık ama en azından biz o sokaklarda yaşadık çocukluğumuzu. Ya bizden sonrakiler? Onlar, günün birinde karşımıza çıkıp onlardan çalıştığımız sokakları isterlerse ne yapacağız, ne cevap vereceğiz onlara?

**Aşağıdaki kavramlardan hangisi bu metinde anlatılanlarla ilişkilendirilemez?**

- A) Umut  
B) Özlem  
C) Teselli  
D) Kaygı

17. Ömer, Uğur, Yeşim ve Zehra "Sınır Tanımayan Doktorlar" teşkilatı aracılığıyla gönüllü olarak Filipinler, Kamboçya, Mozambik ve Somali'de beslenme uzmanı, doktor, eczacı ve iletişim uzmanı olarak görev yapmaktadırlar.

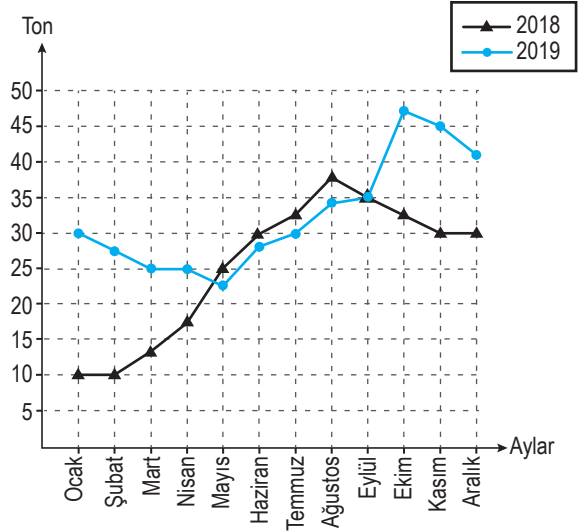
Bu kişilerin meslekleri ve görev yaptıkları ülkelerle ilgili bilinenler şunlardır:

- Herkesin mesleği farklıdır ve kişiler farklı ülkelerde görev yapmaktadır.
- Filipinler'e giden kişi eczacıdır ve bu Yeşim'dir.
- Zehra iletişim uzmanıdır ve Mozambik'e gitmemiştir.
- Uğur doktor değildir ve Somali'de görev yapmaktadır.

**Bu bilgilere göre aşağıdakilerden hangisi doğrudur?**

- A) Somali'de bulunan kişi iletişim uzmanıdır.  
B) Ömer, Kamboçya'da görev yapmaktadır.  
C) Yeşim'in mesleği dokturuktur.  
D) Mozambik'e giden kişi beslenme uzmanıdır.

18. Bir ilimizin 2018 ve 2019 yıllarında aylık kuru yemiş ihracat miktarı grafikte gösterilmiştir.



**Bu grafiğe göre aşağıdakilerden hangisi söylenebilir?**

- A) 2018 Kasım ayı ve sonraki iki ayın ihracat miktarı eşittir.  
B) Her iki yılın nisan-ağustos ayları arasında ihracat miktarları düzenli olarak artmıştır.  
C) 2018-2019 yıllarında ihracat miktarları arasındaki farkın en fazla olduğu ay ekimdir.  
D) En fazla ihracat yapılan ay her iki yılda da aynıdır.

19. 1840 kişiyle yapılan bir ankette yer alan sorular ve bu sorulara verilen cevapların dağılımı tablolarda gösterilmiştir.

1. Hangi yaş aralığındasınız?	Kişi sayısı
21-30	540
31-40	410
41-50	330
51-60	300
61-70	260
<b>Toplam</b>	<b>1840</b>

2. Yemek yapmayı kimden öğrendiniz?	Kişi sayısı
Aile büyüklerinden	620
Televizyondan	220
İnternetten	450
Yemek kitaplarından	180
Kendim	280
Yemek yapmayı bilmiyorum.	90
<b>Toplam</b>	<b>1840</b>


3. Ne sıklıkla yemek yaparsınız?	Kişi sayısı
Hiç yapmıyorum.	280
Nadiren yapıyorum.	350
Ara sıra yapıyorum.	180
Sık sık yapıyorum.	410
Her zaman yapıyorum.	620
<b>Toplam</b>	<b>1840</b>

**Bu anket uygulamasına göre aşağıdakilerden hangisi kesinlikle doğrudur?**

- A) "Her zaman yapıyorum." cevabını verenler yemek yapmayı aile büyüklerinden öğrenmiştir.  
 B) Yaş ilerledikçe yemek yapan kişi sayısı azalmaktadır.  
 C) 330 kişi, yemek yapmayı 41-50 yaş aralığında öğrenmiştir.  
 D) Yemek yapmayı öğrenmiş kişilerden "Hiç yapmıyorum." cevabını verenler vardır.



20. Görselde bir kasanın şifre mekanizması verilmiştir.



Kasa, şifre mekanizması üzerindeki ok sağa, sola çevrilerek açılmaktadır. Bu mekanizmada 30 birim, çeyreği; 60 birim, yarımı ifade etmektedir. Kasayı açmak için 0 (sıfır) noktasında bulunan ok, sırasıyla aşağıdaki yönergeler takip edilerek hareket ettirilmektedir:

- I. Çeyrek tur sağa döndürünüz.
- II. Yarım tur sola çeviriniz.
- III. Bir yarım bir de çeyrek tur sağa döndürünüz.
- IV. 10 birim sağa çeviriniz.

**Buna göre kasa açıldığında ok hangi sayıyı gösterir?**

- A) 50      B) 60      C) 70      D) 80

TÜRKÇE TESTİ BİTTİ.  
T.C. İNKILAP TARİHİ VE ATATÜRKÇÜLÜK  
TESTİNE GEÇİNİZ.

T.C. İNKILAP TARİHİ VE ATATÜRKÇÜLÜK

1. Bu testte 10 soru vardır.
2. Cevaplarınızı, cevap kâğıdına işaretleyiniz.

1. “Mustafa Kemal’in öğrenim gördüğü yıllarda Osmanlı Devleti sınırları içerisindeki okullarda eğitim birliğinden söz etmek mümkün değildi.” diyen bir tarihçi, aşağıdakilerden hangisini bu düşüncesine kanıt olarak gösterir?

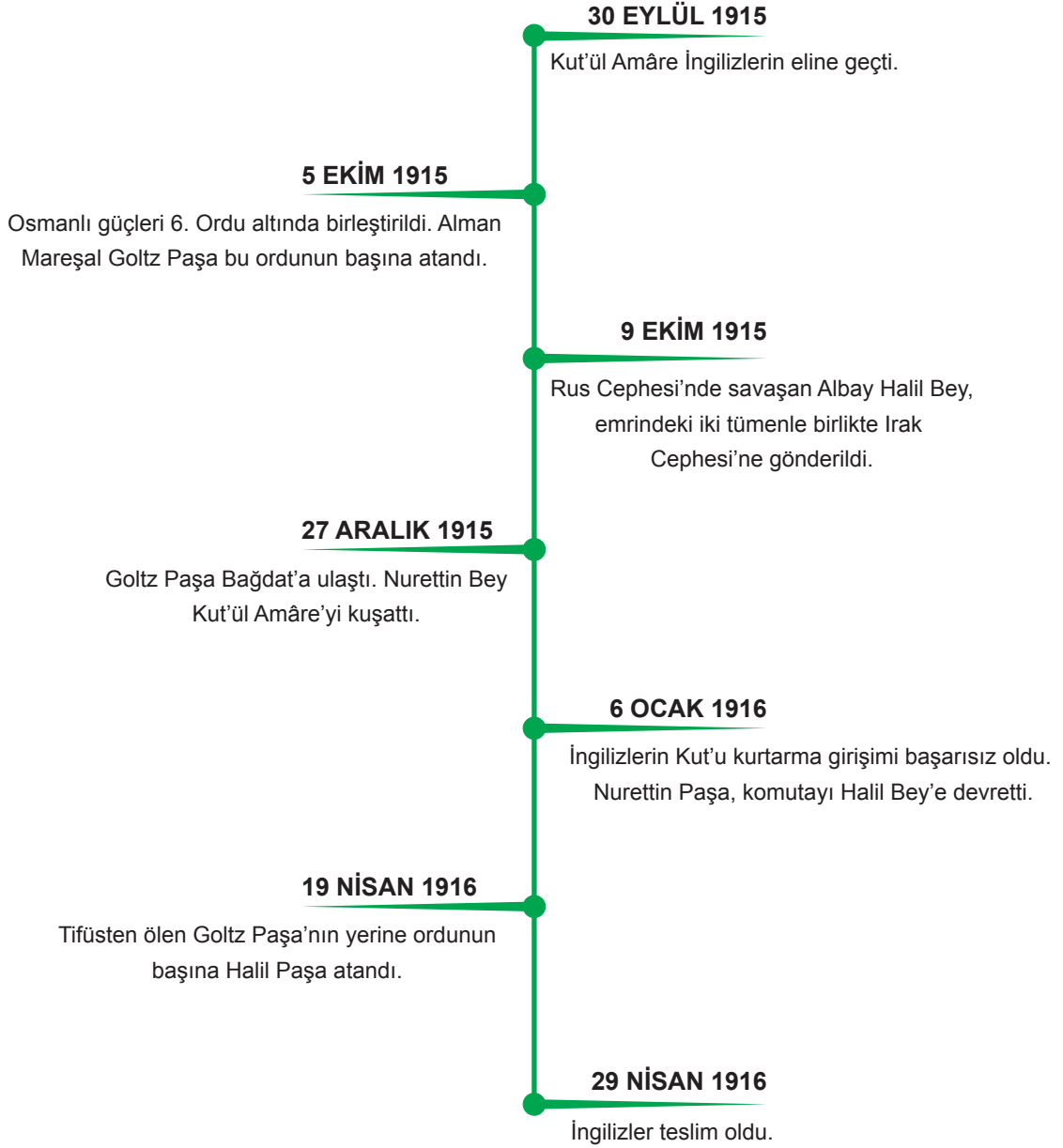
- A) Mustafa Kemal, Harp Okulunda iken Batı’daki gelişmeleri takip etmek için Avrupa’dan dergiler getirtti ve kendi çabasıyla Fransızcasını geliştirmeye çalıştı.
- B) Mustafa Kemal’in öğrencilik yıllarında Osmanlı Devleti’nde farklı kurumlarca yönetilen modern okullar, azınlık okulları, yabancı devlet okulları ve medreseler vardı.
- C) Asker olmak isteyen Mustafa Kemal, annesinden habersiz girdiği askerî okul sınavını kazandı ve Selanik Askerî Rüştiyesine başladı.
- D) Mustafa Kemal, Manastır Askerî İdadisinde öğrenci iken yerli ve yabancı fikir adamlarının eserlerini okudu.

2.

Amasya Genelgesi (22 Haziran 1919)	Yaşanan Gelişme
• Erzurum’da doğu illeri ile ilgili bir kongre toplanacaktır.	➤ 23 Temmuz - 7 Ağustos 1919 tarihleri arasında Erzurum Kongresi düzenlendi.
• Millet’in durumunu gözden geçirmek ve haklarını dünyaya duyurmak için her türlü etki ve denetimden uzak, millî bir kurulun varlığı gereklidir.	➤ Erzurum Kongresi’nde Temsil Heyeti kuruldu.
• Anadolu’nun her yönden güvenilir yerlerinden biri olan Sivas’ta millî bir kongre düzenlenecektir.	➤ 4-11 Eylül 1919 tarihleri arasında Anadolu’nun çeşitli yerlerinden gelen delegelerin katılımıyla Sivas Kongresi düzenlendi.

**Amasya Genelgesi’nin bu kararları ile yaşanan gelişmeler göz önünde bulundurulduğunda aşağıdaki çıkarımlardan hangisi yapılabilir?**

- A) Erzurum Kongresi’nde hükûmet değişikliğine gidilmiştir.
- B) Osmanlı Devleti’nin hukuken sona erdiği kabul edilmiştir.
- C) Sivas Kongresi katılımının az olması nedeniyle yerel bir kongredir.
- D) Amasya Genelgesi’yle, Millî Mücadele’nin sonraki aşamaları planlanmıştır.

**3. Birinci Dünya Savaşı'nın Irak Cephesi'nde "Kut'ül Amâre Kuşatması"**


**Kut'ül Amâre Kuşatması ile ilgili verilen bu bilgilere göre aşağıdakilerden hangisi söylenemez?**

- A) Kuşatmanın başlangıcında Osmanlı birliklerinin başında yabancı bir komutan görev yapmıştır.
- B) Savaş sürecinde Osmanlı ordusunun komuta kademesinde görev değişiklikleri yaşanmıştır.
- C) Yaşanan başarısızlık sonrası İngilizler, Birinci Dünya Savaşı'ndan çekilmişlerdir.
- D) Osmanlı Devleti, Irak Cephesi'ni takviye kuvvetlerle güçlendirmeye çalışmıştır.



4. İstiklal Marşı'nda istiklal davamızı anlatması bakımından büyük bir manası olan mısralar vardır. Benim en beğendiğim yeri de burasıdır: "Hakkıdır, hür yaşamış, bayrağımın hürriyet; Hakkıdır; Hakk'a tapan milletimin istiklâl." Benim bu millettten asla unutmamasını istediğim mısralar işte bunlardır.

**Atatürk'ün bu sözlerine göre aşağıdaki çıkarımlardan hangisi yapılamaz?**

- A) Türk milleti, barışçı bir dış politikayı benimsemektedir.  
B) İstiklal Marşı, Kurtuluş Savaşı'ndan kesitler içermektedir.  
C) Türk milleti, özgürlük ve bağımsızlığına düşkün bir millettir.  
D) İstiklal Marşı, yazıldığı dönemin millî ruhunu yansıtmaktadır.

5. Millî Mücadele'nin sesini İnönü'de, Sakarya'da, Kocatepe'de de duyarsınız; sevda ile isyanı harmanlayan bir romanın sayfalarında da... Bu mücadeleye kimi elinde silahla katılmıştır, kimi kalemle... Romanlar, resimler, şiirler, heykeller... Milletimizin sevdasını da haykırır, isyanını da... Bazen, yaralanan askerin ayakta kalabilmek için uzanan elleri, bir heykeltıraşın çamurlu ellerine tutunur. Bazen de vatan için yola düşenlerin çilesi, bir hikâye yazarının kaleminde gözyaşı olup kalbe dökülür.

**Bu metinde Millî Mücadele'nin hangi alanlara yansımından bahsedilmektedir?**

- A) Kültürel - Ekonomik  
B) Siyasi - Eğitim  
C) Hukuki - Diplomatik  
D) Sanat - Edebiyat

6. İnkılapçılık ilkesi, Atatürk'ün kültür ve uygarlık anlayışı ile yakından ilgilidir. Şöyle ki Atatürk kültür ile uygarlığı aynı görmüş, tüm insanlığa ait değerler olarak ele almıştır. Uygarlığı yüksek kültür olarak gören Atatürk'e göre çağdaş uygarlığın doğuşunda bütün ulusların katkısı vardır. Bu uygarlığa katkı yapamayacak kadar içe kapalı olan toplumların yaşama şansı yoktur.

**Bu metinde Atatürk'ün inkılapçılık anlayışının aşağıdaki özelliklerinden hangisine vurgu yapılmaktadır?**

- A) Millî değerlere bağlılığına  
B) Üretime katkı sağlamasına  
C) Evrensel nitelikler taşımasına  
D) Tam bağımsızlığa olan inancına

7. Türkiye, 1929'a kadar özel girişimi destekleyen bir kalkınma hedefi yürütmüştür. Fakat özel girişimciliğin deneyimsizliği, sermaye ve teknik bilgi yetersizliği ile nitelikli iş gücü eksikliği gibi sorunlar ekonomik kalkınmada istenilen düzeye gelinmesini engellemiştir. Bunun sonucunda Türkiye, ekonomik kalkınmayı daha hızlı gerçekleştirebilmek için devletçilik uygulamasına geçmiştir.

**Bu bilgilere göre devletçilikle ilgili aşağıdakilerden hangisi söylenebilir?**

- A) Uluslararası baskılar sonucunda benimsendiği  
B) Türkiye'nin o günkü ihtiyaçlarından ortaya çıktığı  
C) Özel mülkiyete karşı bir ekonomik model olduğu  
D) Türk halkına millî kimlik kazandırmayı amaçladığı

8.



Balkan Antantı'na Üye Ülkeler (9 Şubat 1934)



Sadabat Paktı'na Üye Ülkeler (8 Temmuz 1937)

**Bu haritalara göre;**

- I. Her iki ittifakta da Türkiye'nin yalnızca sınır komşuları yer almıştır.
- II. Türkiye, batısında ve doğusunda kurulan bölgesel ittifakların içinde bulunmuştur.
- III. Arnavutluk ve Bulgaristan, Balkan Antantı'na katılmamıştır.
- IV. Sadabat Paktı'na üye ülkeler yayılmacı bir politika izlemiştir.

**yargılarından hangilerine ulaşılabilir?**

- A) I ve II                      B) I ve IV                      C) II ve III                      D) III ve IV



9. Cumhuriyet Dönemi'nin ilk yıllarından itibaren devlet, bütün sektörlerde olduğu gibi sağlık alanındaki çalışmalara da destek oldu. Bu amaçla hastaneler ve sağlık ocakları açıldı. 1923 yılından itibaren sağlık hizmetleri Türkiye'nin dört bir yanına yayıldı. Faaliyette geçen hastanelerde 1938 yılında yatak sayısı 9000'e, doktor sayısı 1397'ye ulaştı. Dispanserler ve halk sağlık merkezleri ile yurdun en ücra köşelerine sağlık hizmeti götürülerek vatandaşların sağlık hizmetlerinden ücretsiz yararlanması sağlandı.

**Bu bilgiler Türkiye Cumhuriyeti Devleti'nin aşağıdaki özelliklerinden hangisi ile ilgilidir?**

- A) Sosyal Devlet  
B) Laik Devlet  
C) Hukuk Devleti  
D) Demokratik Devlet

10. “Boşa çıkarılan suikast teşebbüsünden sonra vatandaşlarımdan aldığım mektup ve telgraflar beni çok mutlu etti. Bu elim olayın benim şahsımdan ziyade Cumhuriyetimize ve onun prensiplerine yönelik olduğuna şüphe yoktur. Temeli, büyük Türk milletinin vicdanında, akıl ve şuurunda atılmış olan Cumhuriyetimizin, bir vücudun koparılması ile yok olacağını zannedenler çok zayıf akıllı bahtsızlardır. Benim naçiz vücudum bir gün elbet toprak olacaktır. Fakat Türkiye Cumhuriyeti ilelebet payidar kalacaktır.”

**Mustafa Kemal'in kendisine yönelik suikast girişiminden sonra Anadolu Ajansına verdiği bu demeçte aşağıdaki sorulardan hangisinin cevabı yoktur?**

- A) Suikast girişimine halkın tepkisi ne olmuştur?  
B) Suikastçılar amaçlarına ulaşmışlar mıdır?  
C) Suikasti planlayanların asıl hedefi nedir?  
D) Suikastçılar nerede yargılanmışlardır?

1. Bu testte 10 soru vardır.
2. Cevaplarınızı, cevap kâğıdına işaretleyiniz.

1. • “Mallarını Allah’ın rızasını dileyerek ve içlerinden gelerek harcayanların durumu tatlı bir yamaçta bulunan, üzerine bolca yağmur yağan, bu sebeple ürünü iki misli veren bir bahçe gibidir...”

(Bakara suresi, 265. ayet)

- “Kim gönül hoşluğu ile helalinden bir sadaka verirse bu sadaka bir hurma bile olsa Allah katında büyüyüp çoğalır, sonunda dağ gibi olur.”

(Hadis-i şerif)

**Bu ayet ve hadisten ulaşılabilecek ortak sonuç aşağıdakilerden hangisidir?**

- A) Sadaka verilecek malın Allah’ın rızasına uygun şekilde kazanılması gerekir.
- B) Allah, samimiyetle verilen sadakanın karşılığını fazlasıyla verir.
- C) Sadaka ibadeti farklı şekillerde yerine getirilebilir.
- D) Kişinin, sadakasını kendi imkânları ölçüsünde vermesi beklenir.

2. İnsanın cinsiyeti, fiziki şekli ve ten rengi Allah’ın iradesinin bir sonucu olup insanın iradesine bağlı değildir. Ancak söz ve davranışlar insanın iradesinin bir sonucudur ve insan bunlardan hesaba çekilecektir.

**Bu metinde aşağıdakilerden hangisi vurgulanmaktadır?**

- A) İnsanı diğer varlıklardan ayıran özellik, akıl ve iradedir.
- B) İnsan, evrensel yasalara uyarak kâinatın düzenini koruyabilir.
- C) İnsanın özgürlüğü ile sorumluluğu arasında doğrudan bir ilişki vardır.
- D) İnsan hem maddi hem de manevi yönü olan bir varlıktır.

3. Bir aile ihtiyaç sahiplerine dağıtmak amacıyla erzak kolileri hazırladı. Kolilerin dağıtım esnasında çekilen videoları da sosyal medyada paylaştı. Yardım alan ihtiyaç sahibi kişilerden biri kendi görüntüsünün paylaşılmış olmasından dolayı mahcubiyet hissedip üzüldü.

**Bu mahcubiyetin oluşması, aşağıdaki ayetlerden hangisinin dikkate alınmadığını göstermektedir?**

- A) “Ey iman edenler! Kazandıklarınızın iyilerinden ve yerden sizin için çıkardıklarımızdan Allah yolunda harcayın. İçinize sinerek almayacağınız şeyleri hayır olarak vermeye kalkışmayın...”  
(Bakara suresi, 267. ayet)
- B) “... Sadakaları gizleyerek fakirlere verirseniz bu, sizin için daha hayırlıdır ve günahlarınızın bir kısmına da kefarettir...”  
(Bakara suresi, 271. ayet)
- C) “Sadakalar, kendilerini Allah yoluna adan, yeryüzünde dolaşmaya güç yetiremeyen fakirler içindir...”  
(Bakara suresi, 273. ayet)
- D) “Eğer borçlu darlık içindeyse, ona eli genişleyinceye kadar mühlet verin. Eğer bilerseniz, borcu sadaka olarak bağışlamanız sizin için daha hayırlıdır.”  
(Bakara suresi, 280. ayet)